





Selbsteinschätzungsbogen Vierecke, Dreiecke & Winkel

Modul: Geometrie
SINUS.NRW 2010

Name: _____

	Ich kann...	sehr sicher 	ziemlich sicher 	nur unsicher 	sehr unsicher 	Beispiel- Aufgaben
	Vierecke					
1	Ich kann Vierecke von anderen Figuren unterscheiden.					
2	Ich kann die Eigenschaften der besonderen Vierecke Rechteck, Quadrat, Parallelogramm, Raute und Trapez angeben.					
3	Ich kann Rechtecke und Quadrate zeichnen.					
	Dreiecke					
4	Ich kann bei einem Dreieck die Seiten und Eckpunkte richtig benennen.					
5	Ich kann rechtwinklige, gleichschenklige und gleichseitige Dreiecke voneinander unterscheiden.					
6	Ich kann Höhen in einem Dreieck bestimmen.					
7	Ich kann Höhen in einem Dreieck einzeichnen.					
	Winkel					
8	Ich kann Winkel anhand ihrer Größe unterscheiden und sie mit dem korrekten Fachbegriff benennen.					
9	Ich kann die Größe eines Winkels schätzen.					
10	Ich kann die Größe eines Winkels mit dem Geodreieck messen.					
11	Ich kann einen Winkel mithilfe eines Geodreiecks zeichnen.					