


Blütenaufgabe „Flaggen“

Modul: Geometrie

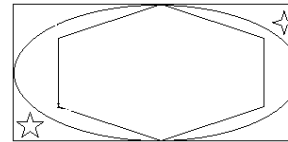
SINUS.NRW 2010

Name: _____



Beim Spiegeln sind Fehler aufgetreten. Findest du sie?

Original:



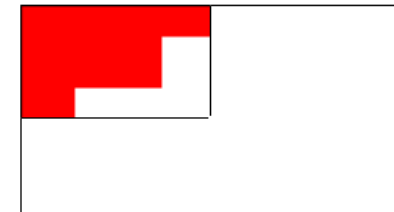
Spiegelbild:



Untersuche die abgebildeten Flaggen auf Symmetrie. Zeichne alle möglichen Symmetrieachsen ein.



Hier siehst du nur einen Teil der Flagge eines Landes. Kannst du sie vervollständigen?



Entwirf eine eigene Flagge, die mindestens zwei Symmetrieachsen besitzt.